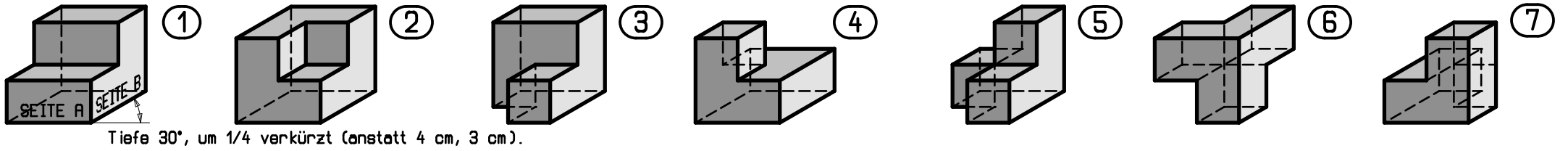
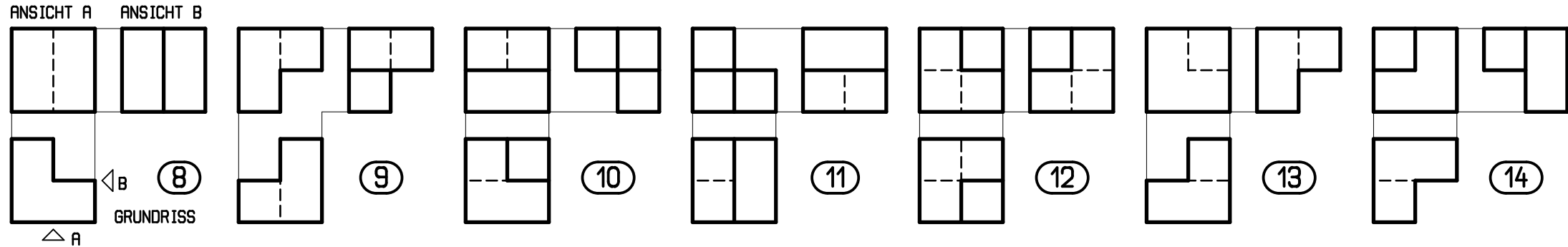


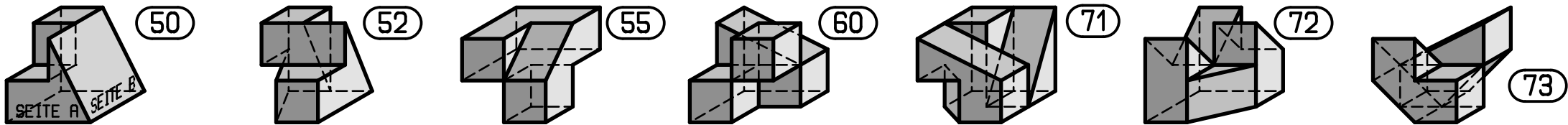
Zeichne aus der Schrägrissdarstellung die zugehörigen 3 Risse - Grundriss, Ansicht A und B (Seitenlänge Würfel 4 cm)



Zeichne aus den 3 Rissen die zugehörigen Schrägrissdarstellungen



Zeichne aus der Schrägrissdarstellung die zugehörigen 3 Risse - Grundriss, Ansicht A und B



Zeichne aus den 3 Rissen die zugehörigen Schrägrissdarstellungen

